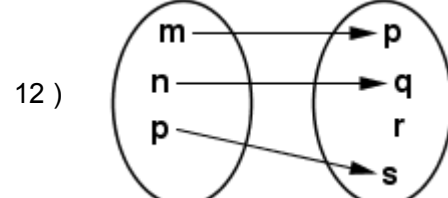
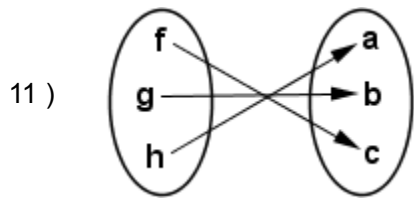
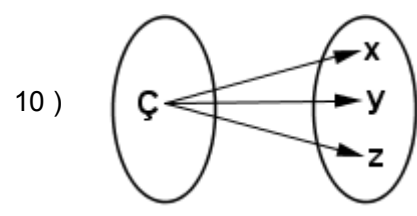
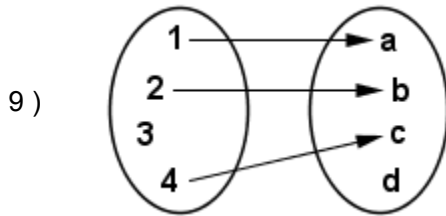
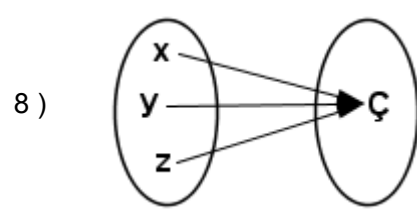
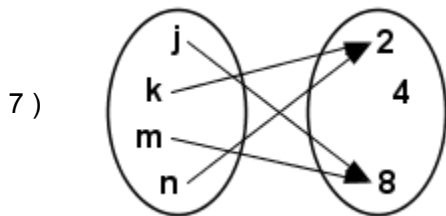
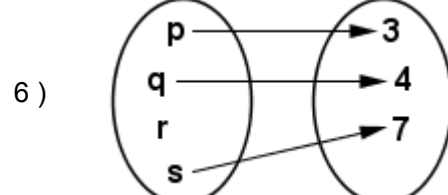
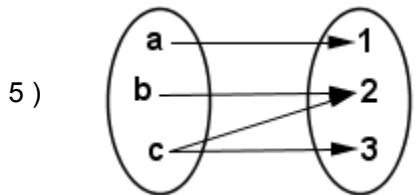
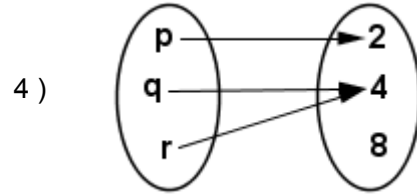
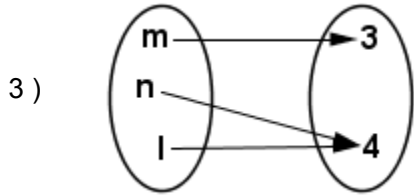
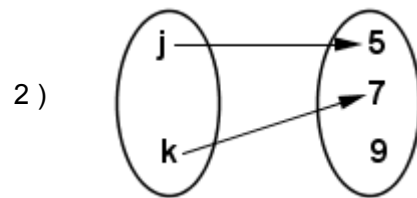
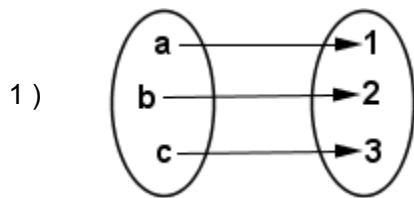


## FUNCIÓN ( EJERCICIOS )

¿Cuál ( es ) de las siguientes relaciones es ( son ) función ( es )? Además determine si esa ( s ) función ( es ) es ( son ) común ( es ), epiyectiva ( s ), inyectiva ( s ) o biyectiva ( s ).



## RESPUESTAS

- 1 ) Función biyectiva
- 2 ) Función inyectiva
- 3 ) Función epiyectiva
- 4 ) Función común
- 5 ) No es función
- 6 ) No es función
- 7 ) Función común
- 8 ) Función epiyectiva
- 9 ) No es función
- 10 ) No es función
- 11 ) Función biyectiva
- 12 ) Función inyectiva